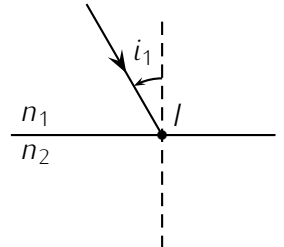


TRAVAUX DIRIGÉS DE O_1

Exercice 1 : Construction d'Huygens

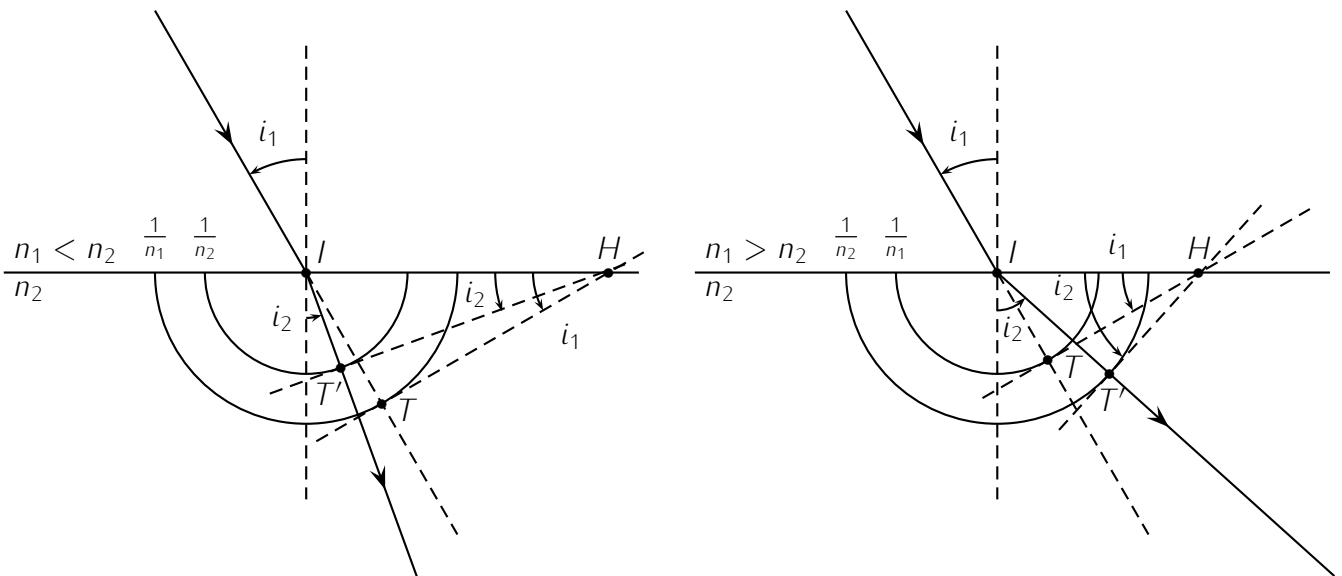
Cette construction géométrique permet de construire le rayon réfracté correspondant à un rayon incident donné.

Du point d'incidence I comme centre, on trace deux demi-cercles de rayons $\frac{1}{n_1}$ et $\frac{1}{n_2}$.
 On prolonge le rayon incident jusqu'à ce qu'il rencontre le demi-cercle de rayon $\frac{1}{n_1}$.
 Du point d'intersection T , on mène la tangente qui coupe le dioptre en H .
 À partir de H , on mène la tangente à l'autre demi-cercle ce qui définit un point T' .
 Le rayon réfracté est alors IT' .

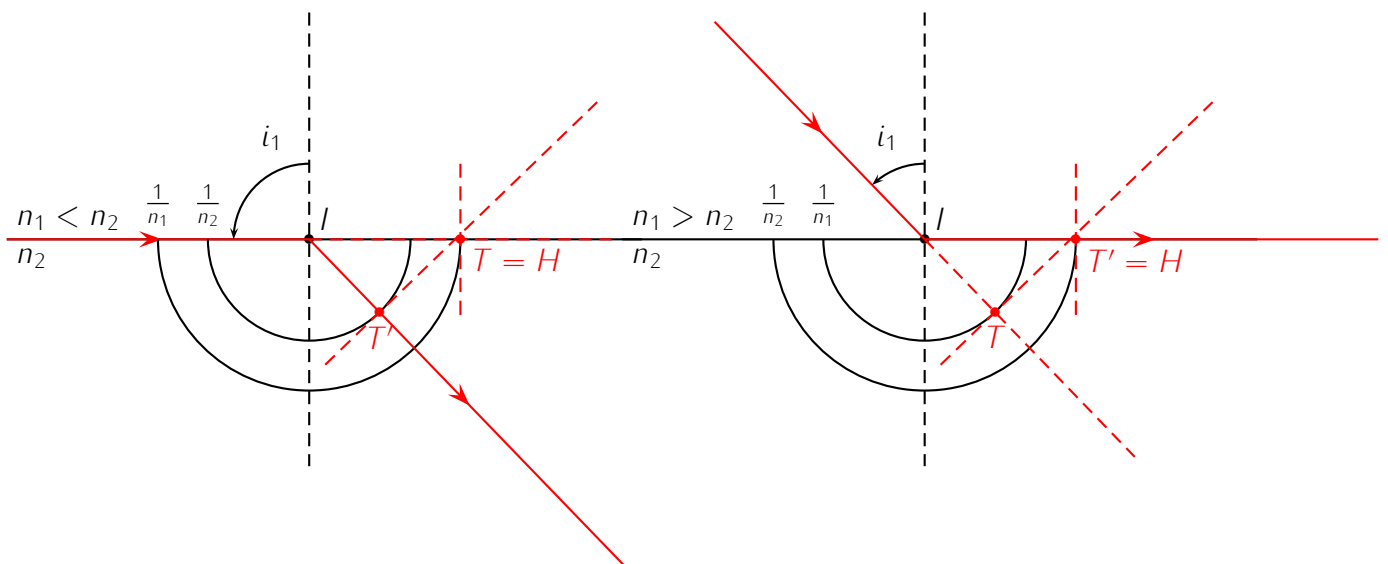


1. Suivre le mode opératoire dans les deux cas : $n_1 < n_2$ et $n_1 > n_2$.
2. Vérifier que cette construction est bien conforme aux lois de Snell-Descartes.
3. Retrouver les cas de la réfraction limite et de la réflexion totale.

1. Constructions :



2. Le rayon réfracté est bien dans le plan d'incidence, reste à montrer que $n_1 \sin i_1 = n_2 \sin i_2$.
 Comme souvent dans ce genre de problème, on cherche des triangles rectangles ayant un coté commun. On identifie ici les triangles ITH et $IT'H$ de coté commun IH . La somme des angles orientés est égale à π et dans ITH , on en déduit $(IH,IT) + (TH,TI) + (HI,HT) = \pi \Rightarrow \frac{\pi}{2} - i_1 + \frac{\pi}{2} + (HI,HT) = \pi$ donc l'angle aigu (HI,HT) est i_1 .
 Par application de relations analogues dans le triangle $IT'H$, on montre que l'angle aigu (HI,HT') est i_2 .
 Dans ITH on lit ensuite $\sin i_1 = \frac{IT}{IH} \Rightarrow IH = \frac{IT}{\sin i_1}$ avec $IT = \frac{1}{n_1}$ d'où $IH = \frac{1}{n_1 \sin i_1}$.
 De même, dans $IT'H$ de $\sin i_2 = \frac{IT'}{IH}$, on déduit $IH = \frac{1}{n_2 \sin i_2}$.
 Par identification, on reconnaît bien $n_1 \sin i_1 = n_2 \sin i_2$.
3. Les cas de la réfraction limite et de la réflexion totale correspondent à la situation pour laquelle H est situé sur le cercle extérieur, on obtient alors les figures suivantes :



Pour effectuer le second tracé, on pourra utiliser le principe du retour inverse de la lumière.

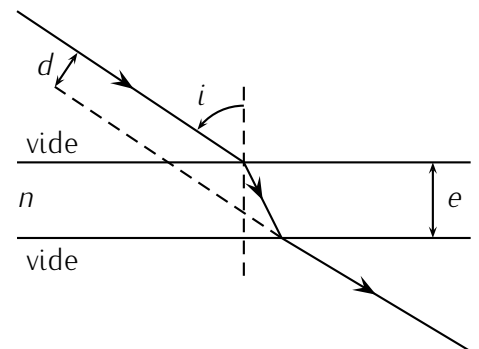
Exercice 2 : Fibre à saut d'indice

On considère une fibre optique à saut d'indice. On reprend les notations du cours.

1. Tracer l'allure du trajet d'un rayon lumineux en supposant qu'il reste confiné à l'intérieur du cœur.
2. Établir la condition que doit vérifier l'angle d'incidence i au niveau du dioptre cœur/gaine pour que le rayon reste confiné dans le cœur.
3. Calculer l'angle limite θ_t pour lequel le confinement est assuré.
4. On considère une fibre rectiligne. Quel est le trajet qui offre le temps de parcours le plus court dans la fibre optique ? Quel est celui qui offre le temps le plus long ? En déduire l'expression de la dispersion intermodale.

Exercice 3 : lame à faces parallèles

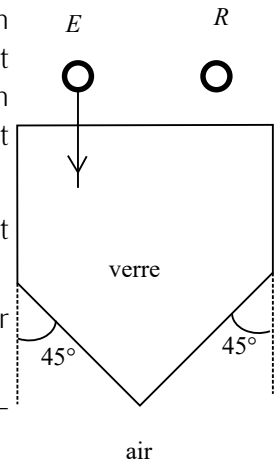
1. Construire le rayon transmis par une lame à faces parallèles en verre d'indice de réfraction n et d'épaisseur e . Ce rayon existe-t-il toujours ?
2. Quelle est la direction du rayon réfracté si le rayon incident arrive sous l'incidence i ?
3. Déterminer la distance d qui sépare la direction du rayon incident de celle du rayon transmis (Cf. figure)
Application numérique : $n = 1,5$, $e = 1$ cm et $i = 45^\circ$.



1. Il existe toujours.
2. Sa direction est la même.
3. $d = e \sin i \left(1 - \frac{\tan r}{\tan i}\right) \simeq 3,3$ mm.

Exercice 4 : Capteur de niveau d'eau

On désire connaître le niveau du liquide dans un château d'eau. Pour cela, on l'équipe d'un capteur optique schématisé sur la figure ci-dessous. L'émetteur E , est un faisceau laser et le récepteur R est une photodiode. Cette dernière fournit un signal électrique lorsqu'elle reçoit de la puissance lumineuse. L'indice du verre est $n = 1,5$; celui de l'air est 1.



1. Montrer que le faisceau laser se réfléchit totalement sur les faces et ressort en R .
2. À la place de l'air, il y a maintenant de l'eau d'indice $n' = 1,33$. Le récepteur R reçoit-il toujours de la lumière ?
3. Expliquer comment utiliser ce dispositif pour connaître le niveau de remplissage du château d'eau.

1. L'angle limite de réflexion totale sur le dioptre verre/air vaut 41° alors que l'angle d'incidence vaut 45° . Il y a donc réflexion totale.
2. L'angle limite de réflexion totale sur le dioptre verre/eau vaut 62° , il y a donc réfraction dans cette situation.
3. En rapprochant horizontalement l'émetteur et le récepteur, celui-ci recevra de la lumière dès que le rayon frappe le dioptre verre/eau. La position de l'émetteur permet donc de connaître le niveau d'eau.

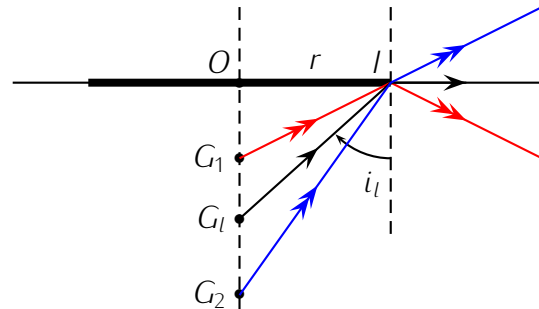
Exercice 5 : Grenouille cachée

Une grenouille est cachée dans l'eau d'indice $n \simeq 1,33$ sous le centre d'un nénuphar de rayon $r = 10$ cm.

Quelle profondeur maximale h la grenouille ne doit-elle pas dépasser pour qu'on ne puisse pas la voir de l'autre côté de la surface ?

Pour qu'on ne puisse pas voir la grenouille, il faut qu'aucun rayon provenant de cette dernière ne traverse la surface de l'eau.

Traçons une figure : s'il y a réfraction, comme la lumière passe du milieu d'indice n à l'air d'indice $1 < n$ (moins réfringent), les rayons s'écartent de la normale. Au-delà de l'angle d'incidence limite i_l , il y a réflexion totale. Prenons les rayons qui passent par I , au bord du nénuphar.



Si la grenouille est située en dessous de G_l (par exemple en G_2), certains rayons arrivent sur la surface avec un angle inférieur à i_l l'angle limite de réfraction et traversent la surface.

Ce n'est plus le cas si la grenouille se situe au-dessus de G_l (par exemple en G_1).

Le cas limite correspond donc à G_l pour lequel la profondeur est $h = OG_l$ et $n \sin i_l = 1 \sin \frac{\pi}{2} \Rightarrow \sin i_l = \frac{1}{n}$ (optique).

On cherche maintenant une relation trigonométrique faisant intervenir $\sin i_l$.

Dans le triangle rectangle OIG_l , on exprime $\sin i_l = \frac{OI}{IG_l} = \frac{r}{\sqrt{h^2+r^2}}$ (mathématique).

On en déduit $\frac{1}{n} = \frac{r}{\sqrt{h^2+r^2}} \Rightarrow h = r \cdot \sqrt{n^2 - 1} \simeq 8,8$ cm.

Exercice 6 : Vu du fond de l'eau ...

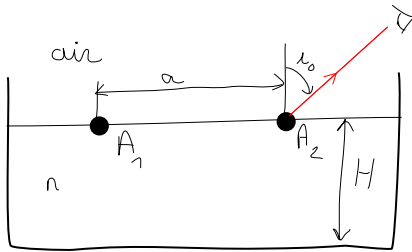
Un poisson est posé sur le fond d'un lac : il regarde vers le haut et voit un disque lumineux de rayon r , centré sur sa verticale et dans lequel il voit tout ce qui est au-dessus de l'eau.

1. Expliquez cette observation à l'aide d'une figure.

2. Le rayon du disque est $r = 30$ cm, en déduire la profondeur h à laquelle se trouve le poisson.

1. 2. $i_{\text{lim}} = \arcsin \frac{1}{n_{\text{eau}}} \simeq 48,7^\circ$ et $h = \frac{r}{\tan i_{\text{lim}}} \simeq 26,3$ cm.

Exercice 7 : Réfractomètre à fils



Deux fils parallèles A_1 et A_2 , distants de a , sont maintenus à la surface d'un liquide d'indice n grâce à des flotteurs non représentés sur la figure. Le liquide est placé dans une cuve dont le fond est un miroir plan. La hauteur H de liquide dans la cuve est facilement réglable grâce à un dispositif de vases communicants. On observe le fil A_2 sous une incidence i_0 donnée, et on règle H de telle façon que l'image du fil A_1 par le miroir se superpose au fil observé. Exprimer l'indice n du

liquide en fonction de i_0 , a et H .

$$n = \sqrt{1 + \frac{4H^2}{a^2} \sin^2(i_0)}$$