

5.4 Equations de Maxwell-Exercice 2

Les armatures d'un condensateur plan, constituées de deux disques conducteurs de rayon a , de surface S , de même axe Oz et séparés d'une distance e sont reliées à un générateur de f.e.m V_0 par une résistance R . Initialement le condensateur est déchargé. A un instant quelconque où la tension à ses bornes vaut $V(t)$, ses armatures portent respectivement les charges $q(t) = CV(t)$ et $-q(t)$ où $C = \epsilon_0 S/e$ est la capacité du condensateur. On néglige les effets de bords.

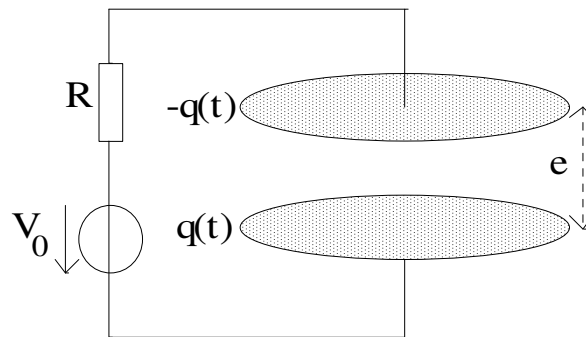
En coordonnées cylindriques, le champ électromagnétique dans le condensateur est *en première approximation* de la forme : $\vec{E} = E(t)\vec{u}_z$; $\vec{B} = B(r, t)\vec{u}_\theta$ et $\vec{E} = \vec{0}$ à l'extérieur du condensateur.

a-Déterminer $V(t)$ et l'énergie U_c du condensateur dans l'état final.

b-A un instant quelconque, déterminer $E(t)$ et $B(r, t)$.

c-En déduire la puissance électromagnétique P reçue par l'intérieur du condensateur, puis l'énergie électromagnétique U_{em} emmagasinée par le condensateur au cours de sa charge. Conclure.

d-Retrouver U_{em} à l'aide de la densité volumique d'énergie électromagnétique.



5.4 Equations de Maxwell-Exercice 2

a-Loi des mailles : $V_0 = V(t) + Ri$ avec $i = \frac{dq}{dt} = C \frac{dV}{dt}$

$$RC \frac{dV}{dt} + V = V_0$$

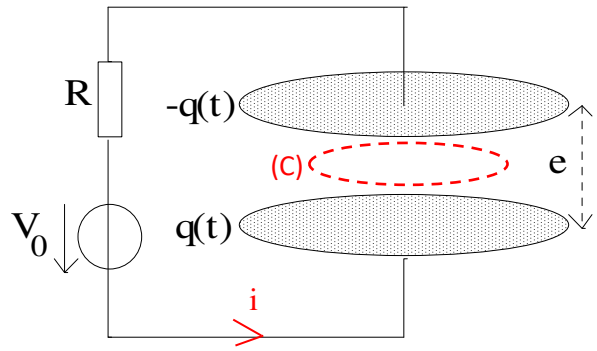
Solution : $V(t) = Ae^{-\frac{t}{\tau}} + V_0$ avec $\tau = RC$

A $t = 0$: $V(0) = 0$ d'où $A = -V_0$

$$\text{Donc : } V(t) = V_0 \left(1 - e^{-\frac{t}{\tau}}\right)$$

Pour $t \gg \tau$: $V(t) = V_0$

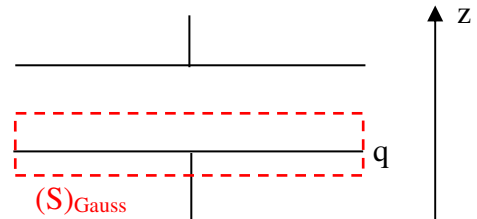
L'énergie emmagasinée est alors : $U_c = \frac{1}{2} CV_0^2$



b-Théorème de Gauss pour le cylindre de section S entourant l'armature de charge q :

$$\iint_{(S)_{\text{Gauss}}} \vec{E} \cdot d\vec{S} = \frac{q}{\epsilon_0} \Rightarrow E(t)S = \frac{q}{\epsilon_0} \Rightarrow E(t) = \frac{q}{S\epsilon_0} = \frac{V(t)}{e}$$

(le flux à travers le couvercle inférieur est nul car le champ électrique est nul à l'extérieur)



$\vec{B} = B(r, t)\vec{u}_\theta$ est orthoradial \Rightarrow on applique le théorème d'Ampère généralisé sur le cercle (C) de rayon r

$$\int_{\text{cercle}} \vec{B} \cdot d\vec{r} = 0 + \epsilon_0 \mu_0 \iint_{\text{disque de rayon } r} \frac{\partial \vec{E}}{\partial t} \cdot d\vec{S} \quad (i = 0 \text{ dans le volume vide intérieur au condensateur})$$

$$\text{Soit : } 2\pi r B(r, t) = \epsilon_0 \mu_0 \frac{dE}{dt} \pi r^2 \quad \text{D'où : } B(r, t) = \frac{\mu_0 r \dot{q}}{2S} = \frac{\mu_0 r C \dot{V}}{2S}$$

c- $\vec{\Pi} = \frac{\vec{E} \wedge \vec{B}}{\mu_0} = -\frac{r\dot{q}}{2\epsilon_0 S^2} \vec{u}_r$ puissance reçue à travers la surface latérale car flux nul à travers les couvercles

$$P_{\text{reçue}} = \iint_{\text{frontière du condensateur}} \vec{\Pi} \cdot d\vec{S} = \iint_{\text{surface latérale}} -\frac{a\dot{q}}{2\epsilon_0 S^2} \vec{u}_r \cdot (-dS \vec{u}_r) \quad \text{signe - pour } d\vec{S} \text{ car puissance reçue}$$

$$P_{\text{reçue}} = \frac{a\dot{q}}{2\epsilon_0 S^2} \cdot \iint_{\text{surface latérale}} dS = \frac{a\dot{q}}{2\epsilon_0 S^2} \cdot 2\pi a e = \frac{\pi a^2 e}{\epsilon_0 S^2} CV \cdot \dot{V} \quad \text{donc : } P_{\text{reçue}} = CV\dot{V}$$

$$U_{\text{em}} = \int_0^{+\infty} P_{\text{reçue}} dt = C \left[\frac{V^2}{2} \right]_0^{V_0} = \frac{1}{2} CV_0^2 = U_c$$

$$\text{d-On a : } U_{\text{em}} = \iiint_{\text{volume du condensateur}} u_{\text{em}} d\tau = \iiint_{\text{volume du condensateur}} \frac{1}{2} \epsilon_0 E^2 d\tau$$

$$\text{Dans l'état final } E = \frac{V_0}{e} \text{ donc : } U_{\text{em}} = \frac{1}{2} \epsilon_0 \frac{V_0^2}{e^2} \iiint_{\text{volume du condensateur}} d\tau = \frac{1}{2} \epsilon_0 \frac{V_0^2}{e^2} \cdot \pi a^2 e$$

$$\text{On retrouve : } U_{\text{em}} = \frac{1}{2} CV_0^2 = U_c$$