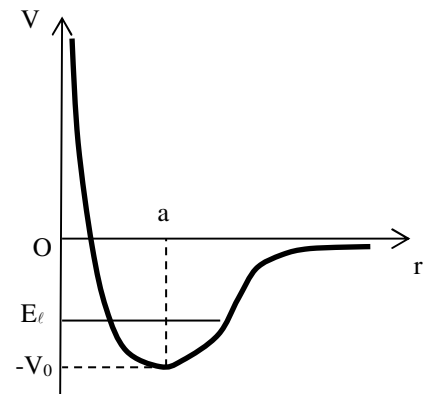


### 6.8.2 Puits-Exercice 8

Le deuteron est un isotope de l'atome d'hydrogène constitué d'un neutron de masse  $m_n$  et d'un proton de masse  $m_p$ . On traite ce problème à deux corps en considérant une particule fictive de masse réduite  $m = m_n m_p / (m_n + m_p)$  soumise au potentiel de Yukawa qui modélise l'interaction nucléaire et dont l'allure est donnée ci-contre. On observe expérimentalement que le deuteron est le seul état lié stable du système proton-neutron et que son énergie de liaison vaut  $E_\ell = -2,2$  Mev. L'ordre de grandeur de la portée de l'interaction est  $a \approx 1$  fm qui est donc le rayon du noyau.



a-Commenter physiquement la forme de ce potentiel et proposer, en se plaçant à une dimension radiale  $r$ , une modélisation simplifiée utilisant un potentiel constant par morceaux dans trois régions distinctes que l'on précisera.

b-Donner la forme des fonctions d'onde de l'état stationnaire du système dans les trois régions.

On posera :  $q = \sqrt{-2mE} / \hbar$  et  $k = \sqrt{2m(E + V_0)} / \hbar$

c-En écrivant les conditions aux limites en  $r = 0$  et  $r = a$ , montrer que l'on obtient une équation de quantification de la forme  $f(ka) = -q/k$  et préciser la forme de la fonction  $f$ .

d-Compte tenu des expressions de  $k$  et  $q$ , montrer que l'équation de quantification prend la forme :

$$\begin{cases} |g(ka)| = k / k_0 \\ h(ka) < 0 \end{cases} \quad \text{avec } k_0 = \sqrt{2mV_0} / \hbar \text{ et précise la forme des fonctions } g \text{ et } h$$

e-Résoudre graphiquement l'équation de quantification. Montrer que la condition  $V_0 \gg |E_\ell|$  doit être vérifiée pour qu'il n'existe qu'un seul état lié. Dédurre, dans le cadre de cette condition, une expression littérale approchée ainsi qu'un ordre de grandeur de  $V_0$ . Quelle est la signification physique de cette condition ? Pourquoi le deuteron est-il utilisé dans les accélérateurs du type synchrotron pour produire des neutrons de haute énergie ?

### 6.8.2 Puits-Exercice 8

a- La valeur  $a$  correspond à la distance à l'équilibre ( $V$  minimum) entre le proton et le neutron.

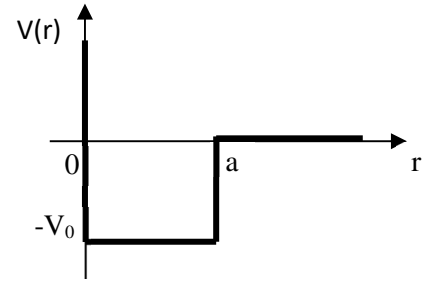
Le potentiel est répulsif ( $\frac{dV}{dr} < 0$ ) pour  $r < a$ , attractif ( $\frac{dV}{dr} > 0$ ) pour  $r > a$

On peut prendre la schématisation ci-contre :

Région 1 :  $V(r) = +\infty$  pour  $r < 0$

Région 2 :  $V(r) = -V_0$  pour  $0 < r < a$

Région 3 :  $V(r) = 0$  pour  $r > a$



b- Equation de Schrödinger indépendante du temps :  $-\frac{\hbar^2}{2m} \frac{d^2\varphi}{dr^2}(r) + V(r)\varphi(r) = E\varphi(r)$  avec  $-V_0 < E < 0$

Région 1 :  $\varphi_1(r) = 0$  car potentiel infini

Région 2 :  $\frac{d^2\varphi}{dr^2}(r) + \frac{2m(E + V_0)}{\hbar^2} \varphi(r) = 0$  soit :  $\frac{d^2\varphi}{dr^2}(r) + k^2\varphi(r) = 0$  avec  $k = \sqrt{2m(E + V_0)} / \hbar$

Solution :  $\varphi_2(r) = A_2 \cos(kr) + B_2 \sin(kr)$

Région 3 :  $\frac{d^2\varphi}{dr^2}(r) + \frac{2mE}{\hbar^2} \varphi(r) = 0$  avec  $E < 0$  soit :  $\frac{d^2\varphi}{dr^2}(r) - q^2\varphi(r) = 0$  avec  $q = \sqrt{-2mE} / \hbar$

Solution :  $\varphi_3(r) = A_3 e^{qr} + B_3 e^{-qr}$

La fonction d'onde doit être normalisable, donc ne doit pas tendre vers  $+\infty$  quand  $r$  tend vers  $+\infty$

Donc  $A_3 = 0$  et :  $\varphi_3(r) = B_3 e^{-qr}$

c- Continuité de la fonction d'onde en  $r = 0$  :  $\varphi_1(0) = \varphi_2(0) \Rightarrow A_2 = 0$  (1)

Continuité de la fonction d'onde en  $r = a$  :  $\varphi_2(a) = \varphi_3(a) \Rightarrow B_2 \sin(ka) = B_3 e^{-qa}$  (2)

Continuité de la dérivée de la fonction d'onde en  $r = a$  :  $\frac{d\varphi_2}{dr}(a) = \frac{d\varphi_3}{dr}(a) \Rightarrow kB_2 \cos(ka) = -qB_3 e^{-qa}$  (3)

En divisant (3) par (2) :  $k \cotan(ka) = -q$  donc :  $\cotan(ka) = -\frac{q}{k}$

d-  $\cotan^2(ka) = \frac{q^2}{k^2} = -\frac{E}{E + V_0} \Rightarrow \frac{1}{\sin^2(ka)} - 1 = -\frac{E}{E + V_0} \Rightarrow \frac{1}{\sin^2(ka)} = 1 - \frac{E}{E + V_0} = \frac{V_0}{E + V_0} = \frac{k_0^2}{k^2}$

Donc :  $|\sin(ka)| = \frac{k}{k_0}$  avec la condition  $\cotan(ka) < 0$  On en déduit :  $g = \sin$  et  $h = \cotan$

e- Les énergies des états liés sont données par les intersections des deux courbes. On a un seul état lié si la pente  $1/k_0$  de la droite verte vérifie :

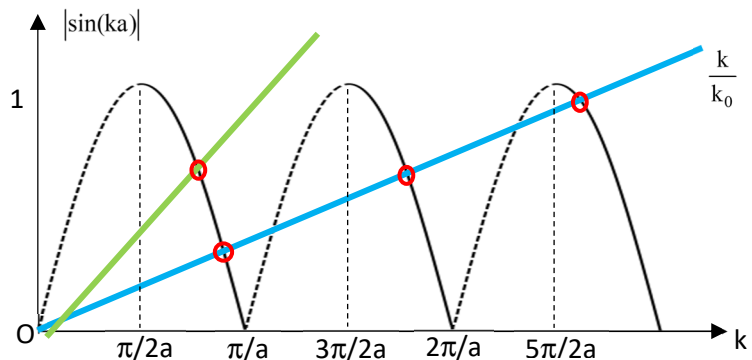
$$\frac{2a}{3\pi} < \frac{1}{k_0} < \frac{2a}{\pi}$$

D'où :  $\frac{\pi^2 \hbar^2}{8ma^2} < V_0 < \frac{9\pi^2 \hbar^2}{8ma^2}$

A.N :  $100 \text{ MeV} < V_0 < 900 \text{ MeV}$   
( $m \approx m_p/2 = 8,3 \cdot 10^{-28} \text{ kg}$ )

On a bien  $V_0 \gg |E_\ell|$

On peut retenir :  $V_0 \approx \frac{\pi^2 \hbar^2}{8ma^2} \approx 100 \text{ MeV}$



Cette condition signifie que l'énergie de liaison est faible devant la profondeur du puits, donc proche de la « sortie » du puits. L'état est peu lié. Le neutron peut facilement être séparé du proton d'où l'intérêt du deutéron pour produire des neutrons dans les accélérateurs.